

Intervalle Grobbestimmung

Arbeitsblatt 2

Link zum Erklärvideo: <https://youtu.be/kBbPQVK8qTQ>

Weitere (Online-)Übungen und Arbeitsblätter: www.ccerklärt.de

Erklärvideo:



Der untere Ton eines Intervalls ist jeweils angegeben. Notiere den fehlenden oberen Ton, damit sich das angegebene Intervall ergibt. Am Anfang jeder Aufgabe ist immer eine Musterlösung angegeben.

Hilfe bekommst Du im Erklärvideo!

Aufgabe 1: Intervalle (bis Quarte)

Beispiel:

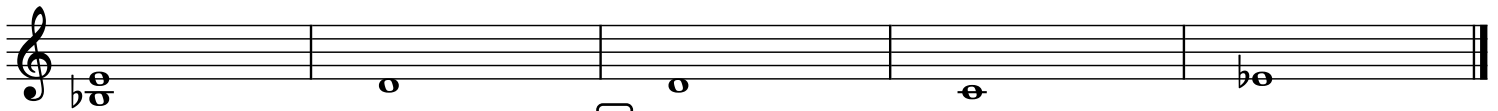
Quarte

1 Sekunde

2 Terz

3 Prime

4 Sekunde



7

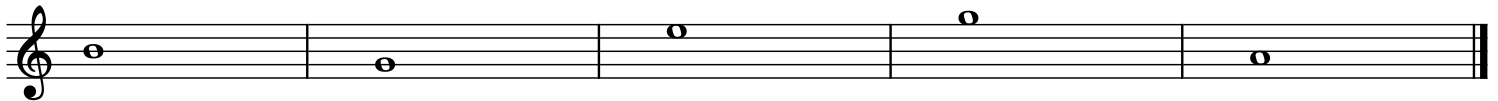
5 Sekunde

6 Quarte

Prime

8 Terz

9 Sekunde



Aufgabe 2: Intervalle (Quinte bis Oktave)

Beispiel:


Sexte

10 Oktave

11 Quinte

12 Sexte

13 Quinte




14 Oktave

15 Quinte

16 Sexte

17 Septime

18 Septime



Aufgabe 3: Intervalle (Prime bis Oktave)


Beispiel:

Terz

19 Sekunde

20 Septime

21 Quarte



22 Quinte

23 Oktave

24 Septime

25 Quinte

